

2026年度 三田学園中学校入学試験問題

A日程 社 会

〈注意〉 各問題の解答はすべて解答用紙に書き入れなさい。

受験番号	
------	--

1 次の文章を読み、A～Eに関連する各問いに答えなさい。

2025年4月から半年間、大阪・関西万博が開催されました。この国際博覧会には約150か国・地域が参加し、世界中の最新技術や文化がいちどに会しました。万博はたんなる展示会ではなく、未来社会の課題解決や持続可能な開発目標（SDGs）達成に向けた国際協力の場合でもあります。

日本は古代から海外との交流を通じて文化や技術を取り入れ、時には外交的な緊張も経験してきました。遣隋使・遣唐使による中国との交流、中世の元寇における防衛戦争、江戸時代の鎖国政策と限定的な貿易など、多様な形で外国と関わってきました。

このような歴史的背景をふまえ、大阪万博という現代の国際交流イベントにもつながる、日本と海外との関係について考えてみましょう。

A：古代の外交と文化交流

古代日本は、中国（隋・唐）との交流の中で政治制度や文化を学びました。遣隋使や遣唐使が派遣され、日本独自の律令制度も整えられました。

問1 右図は古代の日本と中国を結ぶ主な交易路を示しています。遣唐使が利用した航路として正しいものを、次のア～エからすべて選び記号で答えなさい。

- ア. 陸路のみ利用して中国へ向かった。
- イ. 九州地方から朝鮮半島にそって中国へ向かった。
- ウ. 北陸地方から日本海をわたって中国へ向かった。
- エ. 南西諸島を通して中国へ向かった。

【出典】 山川出版社『高校日本史 改訂版』
「8世紀中頃の東アジアと日唐交通路」



問2 律令制度について正しいものを、次のア～エから二つ選び記号で答えなさい。

- ア. 中央集権的な政治体制であった
- イ. 武士階級の権限が強化された
- ウ. 土地と人民は国家の管理下に置かれた
- エ. 商人の活動が自由になった

B：中世の戦乱と防衛

13世紀、日本には中国（元）が二度にわたっておしよせてきました。しかし、日本はなんとか守りきり、『神風』にも助けられました。

問3 元寇（1274年、1281年）の説明として誤っているものを、次のア～エから一つ選び記号で答えなさい。

- ア. 元軍は朝鮮半島経由で来襲した
- イ. 日本は元軍の新しい兵器に苦戦した
- ウ. 日本が元の領土にせめ込んだ
- エ. 元軍が九州北部に上陸した

問4 『神風』と呼ばれる現象についての説明としてもっとも適切なものを、次のア～エから一つ選び記号で答えなさい。

- ア. 日本の神社付近でふく特別な風のこと
- イ. 元軍をおそった暴風雨のこと
- ウ. 武士たちによる戦法のこと
- エ. 朝鮮半島特有の季節風のこと

C：戦国時代～安土桃山時代の交流と戦い

先生：鉄砲が日本に伝わってから、戦い方が大きく変わりましたね。

生徒：豊臣秀吉の朝鮮への遠征も、その時代の大きな出来事ですね。

先生：そうです。秀吉は朝鮮を経由して中国(明)を征服しようとしていました。また、この時期にヨーロッパとの交易も始まっていますよ。

問5 鉄砲伝来のおおよその年代として正しいものを、次のア～エから一つ選び記号で答えなさい。

- ア. 14世紀末 イ. 16世紀半ば ウ. 17世紀初め エ. 18世紀後半

問6 豊臣秀吉による朝鮮出兵の目的としてあてはまらないものを、次のア～エから一つ選び記号で答えなさい。

- ア. 明との貿易を拡大するため イ. 朝鮮を支配するため
ウ. 日本の領土を拡大するため エ. ヨーロッパとの同盟を結ぶため

問7 次のヨーロッパとの交流をテーマにした美術品に関連して、この時代に海外から日本に伝わった文化や技術として正しいものを、下のア～エからすべて選び記号で答えなさい。



【出典】国立文化財機構所蔵品統合検索システム (https://colbase.nich.go.jp/collection_items/kyuhaku/A120?locale=ja)

- ア. キリ基督教 イ. 火薬製造法 ウ. 書道 エ. 漢字

D：江戸時代の鎖^{さこく}国政策と貿易

生徒：江戸時代って鎖国していたんですよね？

先生：そうですね。ただし、長崎だけは開かれていて、一部の国とは貿易が続いていました。

生徒：なるほど。ところで、同じ時代に行われていた参勤交代って何ですか？

先生：大名が定期的に江戸に行って幕府に報告し、領地にもどる制度で、 の仕組みですよ。

問8 江戸幕府の鎖国政策の内容として誤っているものを、次のア～エから一つ選び記号で答えなさい。

- | | |
|---------------------|--------------------|
| ア. オランダ、中国との貿易を許可した | イ. すべての外国船の入港を禁止した |
| ウ. キリスト教の布教を禁止した | エ. 長崎の出島で貿易をおこなった |

問9 会話文中の空らん に入る、江戸時代の参勤交代制度の目的として正しいものを、次のア～エから二つ選び記号で答えなさい。

- | | |
|-----------------|----------------|
| ア. 大名の反乱を防止するため | イ. 幕府支配を強化するため |
| ウ. 外交を促進するため | エ. 経済を活性化させるため |

E：まとめ

問10 古代から江戸時代までさまざまな海外交流がありました。その中で、あなたがもっとも重要だと思う出来事を1つとりあげ、それが重要だと考えた理由を書きなさい。

(A～Dの内容から選んでも、それ以外の時代から選んでもかまいません)


例)「私は○○○○○○…だから重要だと思います。」

- 2 大学生のひかるさんは、日本の写真や絵の歴史について、さくらさんに説明することになりました。ひかるさんとさくらさんの会話文を読み、各問いに答えなさい。

さくらさん：写真や絵から歴史を調べるってどういうこと？

ひかるさん：例えばこの〈絵Ⅰ〉をみて。

〈絵Ⅰ〉



【出典】「子供遊風あげくらべ」(早稲田大学古典籍データベース)を一部加工

ひかるさん：この〈絵Ⅰ〉は、江戸時代の終わり頃の社会のようすをかいた「風刺画」なんだ。「風刺」っていうのは、社会の問題点を遠回しに指摘したり、批判したりする事だよ。この絵は、日本がヨーロッパ諸国と開国した時に、日本の物の値段がどのように変化したかを風刺しているよ。

さくらさん：人びとがあげている「たこ」にいろいろな商品の名前が書いてあるわね。その「たこ」がどんどん空高く上がっているということは、ということかしら？

ひかるさん：そういうこと。開国した日本の人びとの生活がイメージできるよね。

さくらさん：確かに、知識だけでなく、実際の生活のようすまで想像できるわ。

問Ⅰ 会話文中の空らん には、〈絵Ⅰ〉の説明文の一部が入る。内容としてもっとも適当なものを、次のア～エから一つ選び記号で答えなさい。

- ア. 人びとの生活に欠かせない商品の値段が大きく上がった
- イ. 外国の人びとがほしがる日本の特産品の値段が大きく上がった
- ウ. 貴重な宝石や金などの貴金属の値段が大きく下がった
- エ. 本や絵画などの芸術作品の値段が大きく下がった

ひかるさん：ほかにも歴史上の偉人^{いじん}の実態もイメージできるんだよ。例えばこの〈絵Ⅱ〉も僕は好きなんだ。これは、明治時代の政治について、フランス人画家がかいた絵だよ。

〈絵Ⅱ〉



【出典】『ビゴー素描コレクション』岩波出版

ひかるさん：この絵は、当時の日本の首相が のビスマルク首相を尊敬し、 の憲法をモデルにして日本の憲法を作ろうとしている姿がかかされているよ。

さくらさん：確かに、歴史上の人物がコミカルにかかれながらも、当時のようすがよくわかるわね。

ひかるさん：この絵がかかれた頃には、有名な政治家やお金持ちは、自分たちの姿を写真におさめるようになったり肖像画を残すようになっていったんだ。

〈写真Ⅲ〉



〈絵Ⅳ〉



【出典】「近代日本人の肖像」国立国会図書館ウェブサイトより

ひかるさん：〈写真Ⅲ〉の人物は、①明治時代に政府の方針に反対して自由党を作り、自由民権運動を主導した だよ。〈絵Ⅳ〉の人物は、『学問のすすめ』を書いて、日本人にヨーロッパ人の考え方を紹介した だよ。

さくらさん：写真の技術が伝わって、歴史上の人物もどんな見た目だったかわかるようになったんだね。

ひかるさん：明治時代には写真がとられるようになったけど、印刷技術も十分ではなかったので ②昔の新聞は文字と絵しかなかったんだよ。

問2 会話文中の空らん に入る国名を、次のア～エから一つ選び記号で答えなさい。

ア. イギリス

イ. フランス

ウ. アメリカ

エ. ドイツ

問3 会話文中の空らん ・ にあてはまる人物の名前をそれぞれ漢字で答えなさい。

問4 会話文中の下線部①について、明治新政府は「五か条のご誓文^{せいもん}」とよばれる政治の基本方針を出しました。次のア～エの文章は、それぞれ歴史的な文章を口語訳したものです。「五か条のご誓文」としてもっとも適切なものを、次のア～エから一つ選び記号で答えなさい。

ア.

これからは、開墾地^{かいこんち}を私有財産とすることを認め、三代限りの所有か一代限りの所有かを問わず、すべて永久的な所有を認め、国家は回収しないこととする。

イ.

- ・政府は戦時に必要であれば、議会の承認なしに、臣民を総動員できる。
- ・政府は戦時に必要であれば、議会の承認なしに、出版物の掲載^{けいさい}を制限することができる。

ウ.

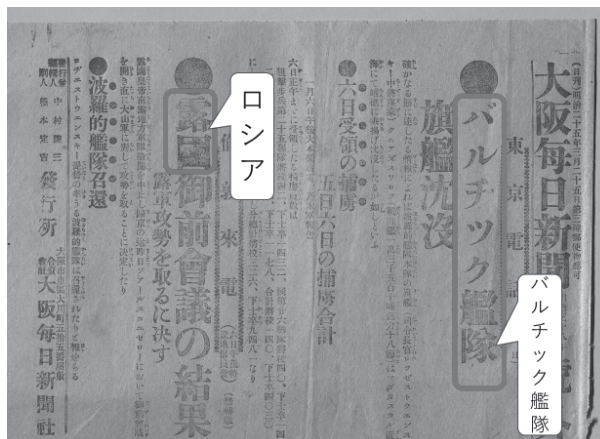
日本国民は、正当に選挙された国会における代表者を通じて行動し、われらとわれらの子孫のために、…政府の行為^{こうい}によって再び戦争の惨禍^{さんか}が起ることのないようにすることを決意し、ここに主権が国民に存することを宣言し…

エ.

- ・広く会議を開き、政治はすべての人びとの意見で決定すべきである。
- ・今までの悪い習慣をやめ、西洋の定めたルールに基づくべきである。

問5 会話文中の下線部②に関連し、次のA～Cは明治時代から現代にいたるまでの新聞の一部です。これらの新聞の見出しを参考に、年代順に並びかえたものとしてもっとも適切なものを、次のア～カから一つ選び記号で答えなさい。

A



B



C



【出典】 順不同 『大阪毎日新聞』（東京大学明治新聞雑誌文庫所蔵）『朝日新聞』『毎日新聞』

ア. A→B→C

イ. A→C→B

ウ. B→A→C

エ. B→C→A

オ. C→A→B

カ. C→B→A

ひかるさん：時代が進んで、③大正時代になると、人びとの間に権利をもとめる運動など自由な空気が広がったんだよね。けれども、それから10年ぐらいたった時にとられた写真が〈写真V〉なんだ。

さくらさん：なんだか、物々しい写真だね。集まった人々が誰かを見送っているけど、誰を見送っているのだろう。

ひかるさん：これは、日本が中国と戦争していた時代に兵隊として出兵する人びとの様子だね。戦争中の日本の様子がよく伝わってくる写真だよ。

さくらさん：言われてみるとみんな国旗を持って、まるで国のために頑張れと応援しているみたいだね。

〈写真V〉

問6 会話文中の下線部③について、大正時代の出来事として正しいものを、次のア～ウから**すべて**選び記号で答えなさい。ただし、**正しいものがない場合は、「エ」と答えなさい。**

ア. 全国水平社が作られ、女性差別の解消をめざして活動を開始した。

イ. 平塚らいてうにより、津田塾を設置するなど女子教育の拡大がはかられた。

ウ. 米の値段が暴落する米騒動^{そうどう}が発生し、東北の農村では娘の身売りが多発した。

問7 会話文中の〈写真V〉にあてはまる写真としてもっとも適切なものを、次のア～エから一つ選び記号で答えなさい。

ア



イ



ウ



エ



【出典】 順不同 『神戸新聞』『産経新聞』『朝日新聞』『三田・篠山・丹波の昭和』 樹林社

ひかるさん：ただ、絵や写真から歴史を見るには注意しないといけないことがあるんだ。

例えば、この〈写真Ⅵ〉は昭和30年ごろの列車の車内の写真なんだけど、これを見てどう思う？

〈写真Ⅵ〉



【出典】『南日本新聞デジタル』

〈絵Ⅶ〉



【出典】『ビゴー素描コレクション』 岩波出版

さくらさん：この写真すごいわね。今の電車の中だと考えられない。昔の人はマナーが悪かったのかな？

ひかるさん：そうともいえないんだよ。次の〈絵Ⅶ〉をみて。この絵は、明治時代の夜行列車のようにす
をかいたものだよ。何か気づく？

さくらさん：あれ？ この絵でも床に空きびんとかが置いてある。

ひかるさん：そうでしょ？ この絵は、外国人がかいた絵だから、常識のある人たちがのる列車のはず
だけど、床にゴミが置いてある。これってほんとにマナーが悪い行為だったのかな？

さくらさん：確かに、でもなんで床にゴミをわざわざおくの？

ひかるさん：ヒントは、当時のマナーにあるんだよ。〈絵Ⅷ〉は、第二次世界大戦前に発売されたお弁当のふたに書いてある注意書きなんだけど、何か気づくことはないかな？

〈絵Ⅷ〉



「交通文化振興財団デジタル資料館」掲載の資料を基に作成

さくらさん：あっ、 って書いてある。

ひかるさん：そういうこと。写真や絵から歴史を考える時の問題点は、それらの背景にある文化や考え方をぼくらが見のがして、今のぼくらの感覚で昔の人を批判しちゃう事なんだよ。

さくらさん：むずかしいね・・・

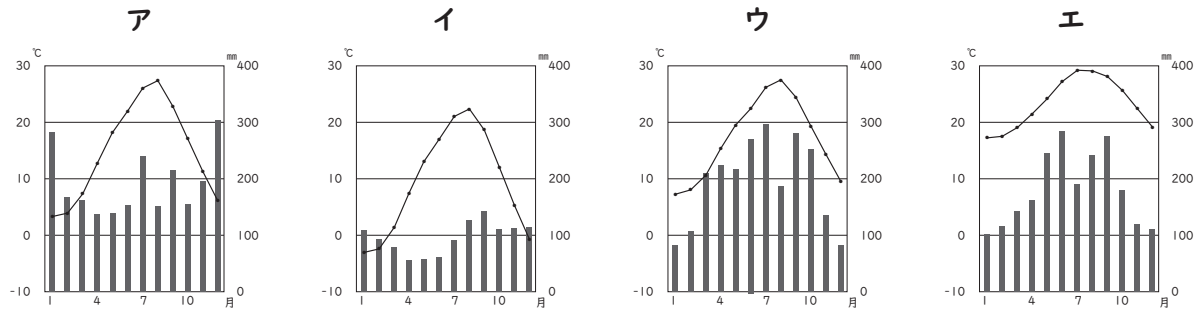
ひかるさん：だから、歴史を考えるときは思い込みに気を付けて、まずその社会の人びとをしっかりと理解するために勉強することが大切になるんだよね。

問8 〈絵Ⅷ〉中の空らん にあてはまる文章を、会話文の内容を参考にして書きなさい。

3

次の各問いに答えなさい。

問1 沖縄県がある南西諸島は日本列島の南にあり、暖かい気候で台風が近づく回数が多いです。次の雨温図のうち、沖縄県那覇市の気候を表すものとしてもっとも適切なものを、次のア～エから一つ選び記号で答えなさい。なお、グラフの折れ線グラフは気温を、棒グラフは降水量をそれぞれ示します。



気象庁ホームページのデータより作成

問2 次の文は、日本の4つの地域で行われている農業について説明しています。このうち下の地図中に●で示した地域の農業について述べた文として適切なものを、次のア～エから一つ選び記号で答えなさい。

- ア. 温暖な気候であるが、山地が多く米作りには適していない。水はけがよい山地の斜面を利用して、みかん栽培が盛んである。
- イ. 広大な土地を利用した牧草の栽培と乳牛の飼育が行われている。生産された牛乳は、東京や大阪などの大都市へ出荷されている。
- ウ. 火山の噴出物でおおわれた高原にキャベツ畑が広がる。涼しい気候を利用して、ほかの地域からの出荷量が少なくなる夏に出荷する。
- エ. 3つの大きな川によって作られた平野で米作りがさかんである。水害からくらしや田畑を守るために周囲を高い堤防で囲んだ輪中が見られる。



問3 次の文は、日本の農業の変化について述べています。文中の A ・ B にあてはまる文章の組み合わせとして正しいものを、下のア～エから一つ選び記号で答えなさい。

広い田に作り替える「ほ場整備」によって、水田や農道が広がったので大型機械が使いやすくなり、 A 。また、ロボットや情報通信技術（ICT）などの先進技術を活用したスマート農業をすすめることで、 B 。

- ① 農作業にかかる時間が短くなった ② 農業で働く人の高齢化がすすんだ
③ 面積あたりの収穫量が少なくなった ④ 働く人の負担を軽くすることができた
ア. A-①・B-③ イ. A-①・B-④ ウ. A-②・B-③ エ. A-②・B-④

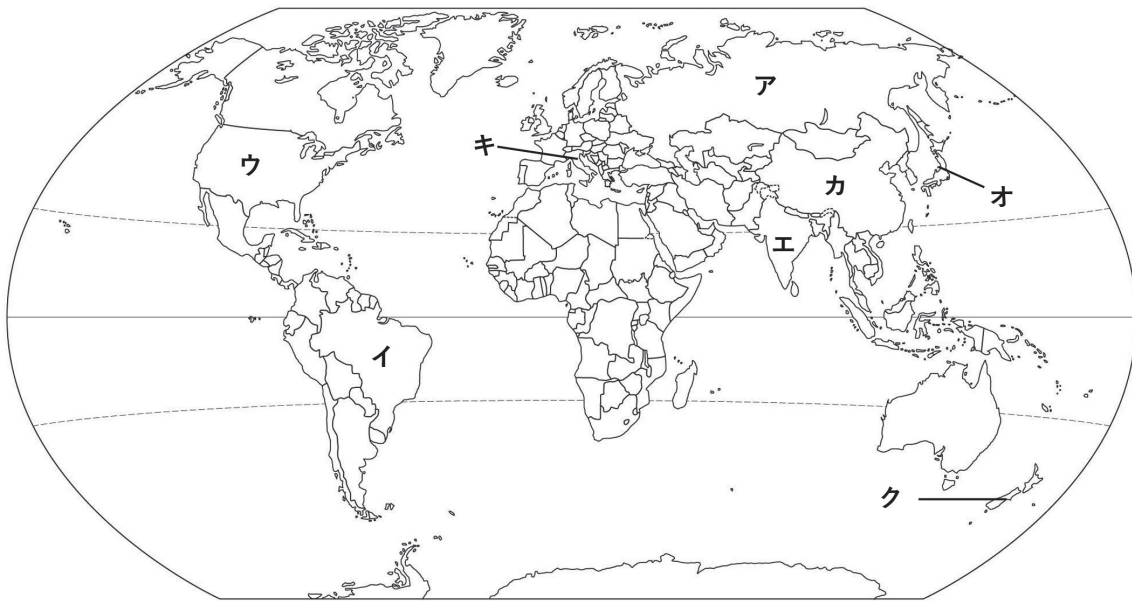
問4 次の文は、東日本の太平洋側の漁業について述べています。文中の C ・ D にあてはまる語句を答えなさい。

千葉県にある銚子港は、サバやマイワシなどの魚を中心に水揚げ量が多い。関東から東北にかけての太平洋側の近海では、時には数日ばかりで漁をする C 漁業がさかんである。それは、親潮と黒潮がぶつかる潮目であり、また関東平野を流れる大河川の D 川から注ぐ栄養分の豊かな水が混ざり、良い漁場になっているからである。

問5 次の文は、日本のものづくりについて述べています。このうち内容が誤っているものを、次のア～エから一つ選び、記号で答えなさい。

- ア. 安全で人にやさしい自動車づくりのために、センサーカメラで歩行者の動きを感知したり、周囲の自動車との距離をはかったりすることで、衝突事故を未然に防ぐ技術が開発されている。
イ. 電気モーターとガソリンエンジンを組み合わせて走るハイブリッドカー、電気自動車や燃料電池自動車など、二酸化炭素の排出を抑える自動車が開発されている。
ウ. 製鉄所では資源やエネルギーを有効に活用するために、一度使用した水を再利用したり、鉄を作るときの熱やガスで発電をしたりしている。
エ. 製油所や石油化学工場では、大量に燃料を使用するため、二酸化炭素などの温室効果ガスの排出量を減らす取り組みはされていない。

- 4 たろうさんは、大阪・関西万博にいきました。そこで3つの海外パビリオンを見学し、A～Cにまとめました。各問いに答えなさい。



〔まとめ〕

A テクノロジー、宇宙開発、教育、文化、起業家精神におけるリーダーシップを紹介しており、さらに自由の女神などの観光地も紹介してくれるパビリオンだった。

B パビリオンの外観は書道の巻物を広げた形をモチーフにしており、漢字で建物に詩がかいてあった。渡されたしおりにはパンダの絵がかいてあった。

C パビリオンのテーマは「アートは人生を再生する」で、館内はたくさんの彫刻ちようこくがあった。ミケランジェロのつくった『復活のキリスト』は特に印象に残った。

問1 大阪・関西万博のメインテーマを、次のア～エから一つ選び記号で答えなさい。

ア.『人類の進歩と調和』

イ.『地球を養う。生命のためのエネルギー』

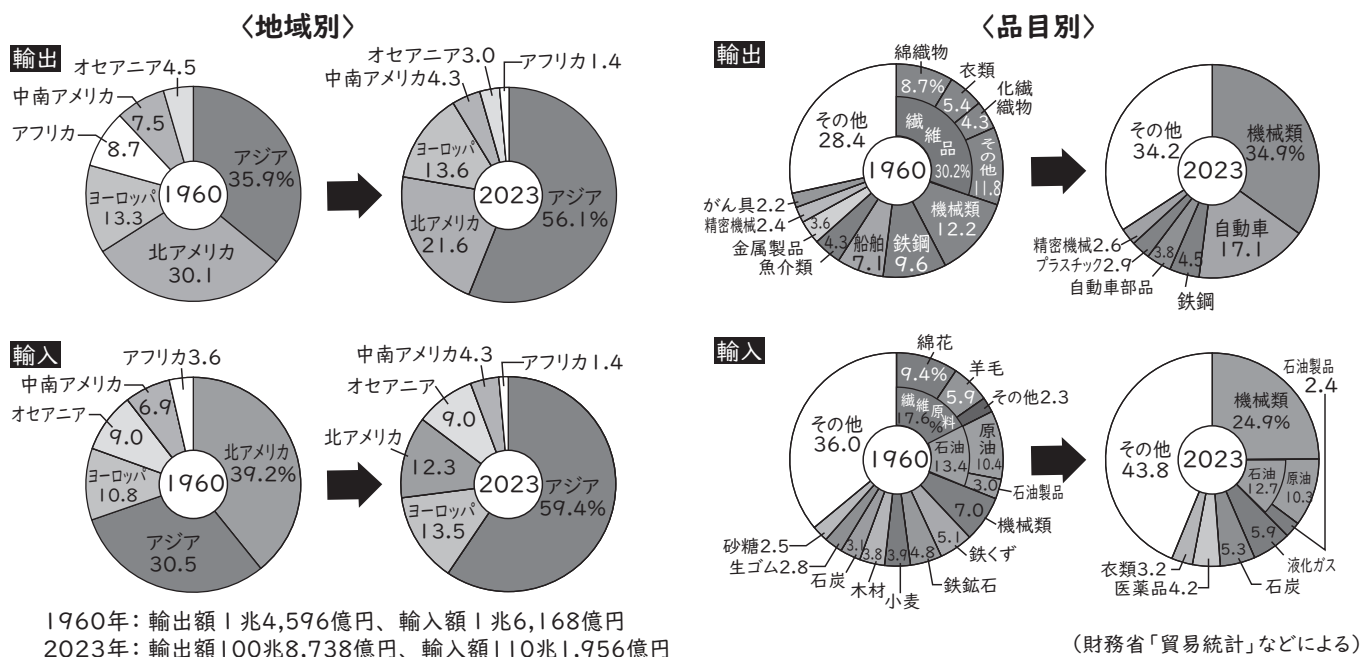
ウ.『より良い都市、よりよい生活』

エ.『いのち輝く未来社会のデザイン』

問2 説明文A～Cの国の場所として適切なものを、上の地図中ア～クからそれぞれ選び、記号で答えなさい。

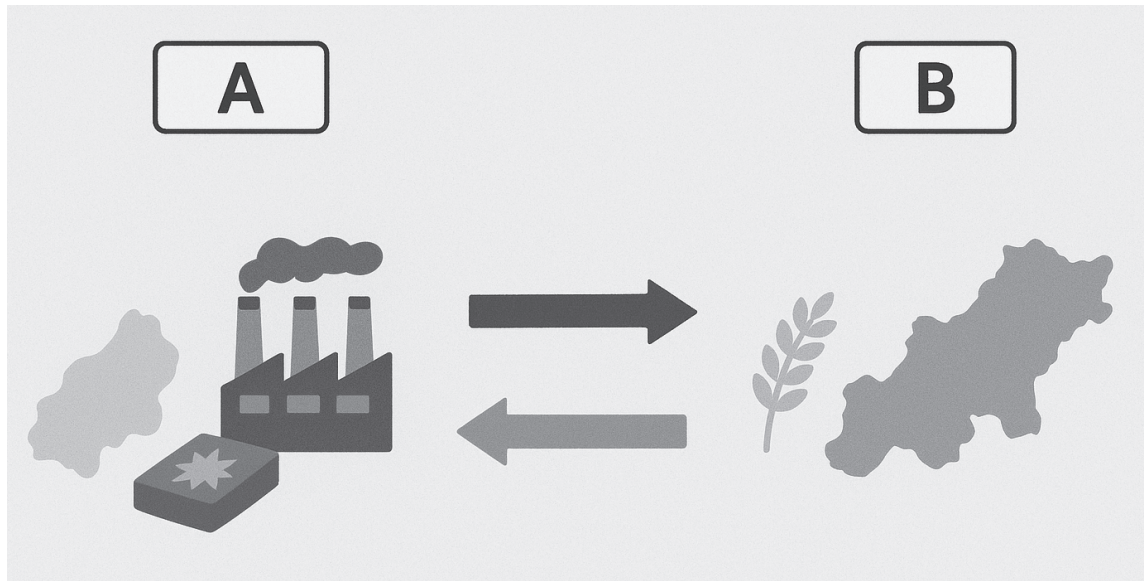
問3 大阪・関西万博の会場内では、国際博覧会として初の試みとなる全面的キャッシュレスが導入されています。キャッシュレスのメリットを文章で簡単に答えなさい。

問4 万博の目的の一つに、経済の活性化があげられます。日本も数々の国や地域と貿易をしています
が、次の図は、1960年から2023年にかけての日本の地域別・品目別貿易割合の変化です。この
図について述べた文章のうち適切でないものを、下のア～エから一つ選び記号で答えなさい。



- ア.1960年と2023年を比べると、輸出を一番している地域はアジアから北アメリカに変わった
イ.1960年と2023年を比べると、アフリカからの輸入割合は減少している
ウ.1960年と2023年を比べると、主な輸出品は繊維品から機械類に変わった
エ.1960年と2023年を比べると、輸入品の原油の割合はほぼ変わっていない

- 5** 次の図は、A国とB国との貿易について表したものです。下の条件①～⑦をふまえたうえで、各問いに答えなさい。



〔条 件〕

- ① A国とB国の2か国しかありません。
- ② A国は、国土面積が狭く農産品の生産には多額の費用がかかります。工業製品の生産は得意で、高品質のものを低価格で大量に生産する技術を持っています。
- ③ B国は、国土面積が広く農産品の生産には費用があまりかかりません。工業製品の生産も得意であり、A国と同じ価格で同じ量の生産はできますが、品質はかたがたです。
- ④ それぞれの国内での買い物行動の条件は価格が第一であり、より価格の低いものが売れます。価格が同じ場合は、より高品質のものが売れます。
- ⑤ A国の食料自給率は50%、B国の食料自給率は120%です。
- ⑥ 貿易にかかる費用は考えません。
- ⑦ 書かれていない条件は考えません。

② A国は、国土面積が狭く農産品の生産には多額の費用がかかります。工業製品の生産は得意で、高品質のものを低価格で大量に生産する技術を持っています。

③ B国は、国土面積が広く農産品の生産には費用があまりかかりません。工業製品の生産も得意であり、A国と同じ価格で同じ量の生産はできますが、品質はかいません。

④ それぞれの国内での買い物行動の条件は価格が第一であり、より価格の低いものが売れます。価格が同じ場合は、より高品質のものが売れます。

⑤ A国の食料自給率は50%、B国の食料自給率は120%です。

⑥ 貿易にかかる費用は考えません。

⑦ 書かれていない条件は考えません。

問1 A国からB国への輸出に適しているものを、次のア～エから一つ選び記号で答えなさい。

ア. 農産品 イ. 工業製品 ウ. どちらも適さない エ. どちらも適している

問2 B国からA国への輸出に適しているものを、次のア～エから一つ選び記号で答えなさい。

ア. 農産品 イ. 工業製品 ウ. どちらも適さない エ. どちらも適している

問3 A国とB国が貿易をやめてしまった場合、A国で問題になると考えられるものを、次のア～エから一つ選び記号で答えなさい。

ア. 農産品の不足

イ. 工業製品の不足

ウ、農産品も工業製品も両方があふれる

エ. 問題は起こらない

問4 B国が工業製品の技術力でA国を上回り同じ価格で高品質の商品を生産できるようになった場合、B国内での工業製品の売れ方はどのようになると考えられますか。もっとも適切なものを、次のア～エから一つ選び記号で答えなさい。

ア. 元からB国内ではB国産の工業製品が売れており、売れる量に大きな変化はない。

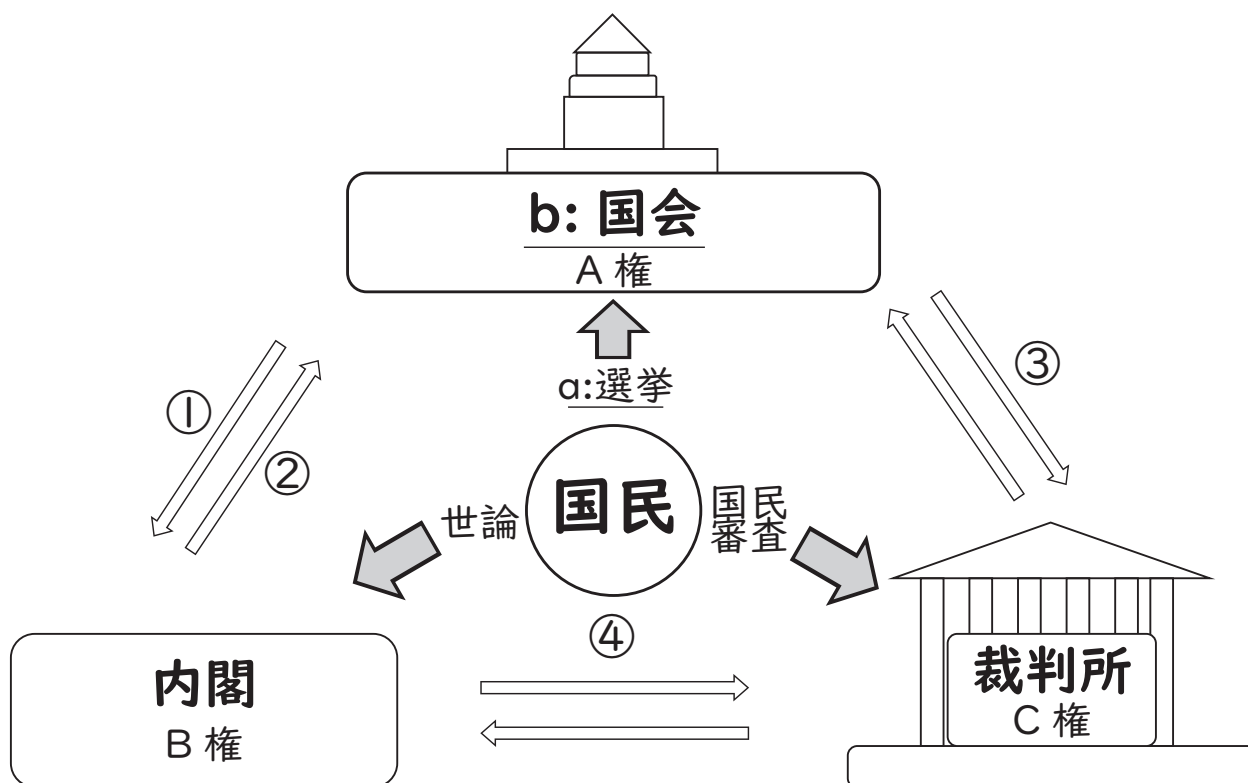
イ. 元はB国内ではA国産の工業製品が売れていたが、A国産よりもB国産のものが売れるようになる。

ウ. 元からB国内ではB国産の工業製品が売れており、さらにB国産のものが売れるようになる。

エ. 元はB国内ではA国産の工業製品が売れていたが、さらにA国産のものが売れるようになる。

問5 B国がA国から入ってくる工業製品に税金をかけて、B国産よりも価格が高くなるようにしました。B国民の買い物行動は税金がかかる前と後でどのように変化するかを、理由を入れて簡単に説明しなさい。

- 6 次の図は日本の国会、内閣、裁判所の関係性を示したものです。各問いに答えなさい。



問1 図中のA・B・Cにあてはまる権利を、次のア～カから一つ選び記号で答えなさい。

- ア. A: 司法(権) B: 立法(権) C: 行政(権) イ. A: 司法(権) B: 行政(権) C: 立法(権)
 ウ. A: 行政(権) B: 立法(権) C: 司法(権) エ. A: 行政(権) B: 司法(権) C: 立法(権)
 オ. A: 立法(権) B: 行政(権) C: 司法(権) カ. A: 立法(権) B: 司法(権) C: 行政(権)

問2 図中の下線部a:選挙について、日本で選挙権をもつ人は、何歳から投票ができますか。解答らんに合うように答えなさい。

問3 衆議院と参議院について述べた文のうち正しいものを、次のア～エから一つ選び記号で答えなさい。

- ア. 参議院議員通常選挙には30歳以上であれば立候補することができる。
 イ. 現在の内閣総理大臣は参議院議員である。
 ウ. 衆議院議員の定数は248人である。
 エ. 2025年7月に行われた選挙は、衆議院議員総選挙である。

問4 図中の①～④について述べた文のうち誤っているものを、次のア～エから一つ選び記号で答えなさい。

ア. ①は国会議員の中から内閣総理大臣が指名されることを示している。

イ. ②は内閣が国会の召集を決定できることを示している。

ウ. ③は不正を行った裁判官を判断する弾劾裁判を示している。

エ. ④は内閣で成立した法律が憲法に反していないか審査することを示している。

問5 国の権力を立法・行政・司法の3つに分け、別々の機関がそれぞれ担当する制度のことを何といいますか。漢字4文字で答えなさい。

問6 図中の下線部b：国会について、国会の議決において、衆議院と参議院の意見が異なったときに衆議院の議決が参議院の議決よりも優先される制度があります。理由の一つとしては、衆議院議員は任期が4年で、参議院議員の6年より短いからです。もう一つの理由を説明しなさい。

2026年度 三田学園中学校入学試験問題
A日程 社 会
解 答 用 紙

受験番号	
総 点	

1

問 1	問 2	問 3	問 4	問 5
問 6	問 7	問 8	問 9	
問 10				

小計	1
----	---

2

問 1	問 2	問 3 C	D	問 4
問 5	問 6	問 7		
問 8				

小計	2
----	---

3

問 1	問 2	問 3	問 4 C	D
問 5	川			

小計	3
----	---

4

問 1	問 2 A	B	C		
問 3					
問 4					

小計	4
----	---

5

問 1	問 2	問 3	問 4			
問 5						

小計	5
----	---

6

問 1	問 2 歳以上	問 3	問 4	問 5			
問 6							

小計	6
----	---