

# 2023年度 三田学園中学校入学試験問題

## A日程 社 会

〈注意〉 各問題の解答はすべて解答用紙に書き入れなさい。

受験番号	
------	--

1 次の文と年表を見て、下の問に答えなさい。

2022年2月24日、①ロシアが、その西側でとなり合っているウクライナに、軍隊のミサイルや戦車をつかって攻めこみました。最初はウクライナの首都  の近くまで攻めましたが、そのあと、ロシアと接する東部と南部に攻撃を集中してせんりょうしています。

つよしさんは、歴史の授業で先生から言われた「人類の歴史は『争い』の歴史と言われることがあります。」という言葉が気になって、歴史の授業で学んだ『争い』について年表を作成し、総まとめとしてふり返ることにしました。

〔注〕ロシアとウクライナとの戦争については、2022年10月段階での状況をもとに作成しています。]

[年表]

時代・年代	できごと
縄文時代	<ul style="list-style-type: none"> <li>・米作りの広がり → むらどうして争いが起こる</li> <li>・小さなくにができ、くにどうしの争いが起こる</li> <li>・②卑弥呼がまとめる</li> </ul>
弥生時代	
A	
645	③蘇我氏が倒される
672	④壬申の乱
B	
1159	平治の乱
1180～85	⑤源平の争乱
1221	承久の乱
1274・81	⑥元軍が攻めてくる
C	
1467～77	応仁の乱
D	
1560	桶狭間の戦い …… 〈ア〉
1575	長篠の戦い …… 〈イ〉
1592～98	二度の朝鮮出兵 …… 〈ウ〉
1600	関ヶ原の戦い …… 〈エ〉
1637	島原の乱 …… 〈オ〉
E	
1837	大塩の乱 …… 〈カ〉
F	
1867	⑦江戸幕府がたおされ、武士の世が終わる
1877	⑧西南戦争
1894～95	日清戦争 …… 〈キ〉
1904～05	日露戦争 …… 〈ク〉
1914～18	第一次世界大戦 …… 〈ケ〉
1931	満州事変
1937～	日中戦争
1939～	第二次世界大戦 …… 〈コ〉
1941～	太平洋戦争
1945	敗戦
1950	⑨朝鮮戦争（※1953年に休戦）
G	
2003	イラク戦争
2022～	ロシアとウクライナとの戦争

問1 下線部①について、ロシアとウクライナとの戦争に関する説明として、適切でないものを、次のア～エから1つ選び、記号で答えなさい。

- ア. ロシアが攻めこんだ理由の1つは、ウクライナがアメリカやヨーロッパの国々と仲よくしようとすることに反発したからである。
- イ. 日本や欧米の国々は、ロシアとの輸出・輸入、お金のやりとりをやめて、経済的に孤立させることで、攻撃をやめさせようとした。
- ウ. ロシアとせつする北欧のフィンランドとスウェーデンは、アメリカやヨーロッパの国々に不信感を持ったため、ロシアへの協力体制をととのえることにした。
- エ. 石油や天然ガスがたくさん取れるロシアからのエネルギー資源が手に入りにくくなったことから、ヨーロッパの国々などでは、モノの値段や電気代が大きく上がった。


問2 文中の空らん  に当てはまる都市として、もっとも適切なものを、次のア～エから1つ選び、記号で答えなさい。

- ア. キーウ                      イ. モスクワ                      ウ. ウィーン                      エ. ローマ

問3 下線部②について、卑弥呼の説明として、もっとも適切なものを、次のア～エから1つ選び、記号で答えなさい。

- ア. 朝廷に従わない豪族を討てという天皇の命令を受け、苦勞しながら各地の豪族をたおしていった。
- イ. 人びとの前に姿は見せず、神のおつげを伝えて人びとの心をとらえ、国をおさめた。
- ウ. 中国に小野妹子を使者として送って、対等な国の交わりを結ぼうとした。
- エ. 女王を退位したあと、ふたたびくにどうしの争いがはげしくなったので、女王に復歸した。

問4 年表中Aの時代に関連するものとして、適切でないものを、次のア～エから1つ選び、記号で答えなさい。



【出典】：第一学習社『最新日本史図表』新版二訂より（画像の縮尺は変更しています）

問5 年表中Bの時代の政治に関連する説明として、適切でないものを、次のア～エから1つ選び、記号で答えなさい。


- ア. 聖徳太子は、冠位十二階や十七条の憲法を定め、天皇中心の国をめざした。
- イ. 聖武天皇は、全国に国分寺・国分尼寺をたて、仏教の力で国をまとめようとした。
- ウ. 菅原道真是、唐の国力がおとろえてきていることを理由に、遣唐使の廃止を提案した。
- エ. 藤原道長は、むすめを天皇のきさきとし、生まれた子が天皇となることで大きな力をもった。

問6 下線部③について、源平の争乱に関係した人物の説明として、適切でないものを、次のア～エから1つ選び、記号で答えなさい。

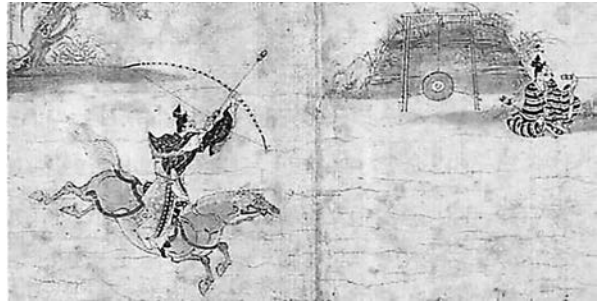
- ア. 平清盛は、武士としてはじめて太政大臣になり、朝廷の重要な地位を平氏一族で独占した。
- イ. 源頼朝は、朝廷から征夷大將軍に任じられ、鎌倉に武士による政府としての幕府を開いた。
- ウ. 源義経は、源頼朝の命をうけ、京都にせめのぼり、ついには壇ノ浦の戦いで平氏をせめほろぼした。
- エ. 源（木曾）義仲は、石橋山の戦いで平氏に敗れ、命からがら奥州平泉ににげおちた。

問7 下線部④について、元軍との戦いを記した資料として、もっとも適切なものを、次のア～エから1つ選び、記号で答えなさい。また、この戦いで日本軍が苦戦した理由を簡単に説明しなさい。

ア



イ



ウ



エ




【出典】：第一学習社『最新日本史図表』新版二訂より  
 (注) アの画像は一部修正しています

問8 次のⅠ～Ⅳの説明文がどの時代にあてはまるか、年表中のC～Fからそれぞれ1つずつ選び、記号で答えなさい。

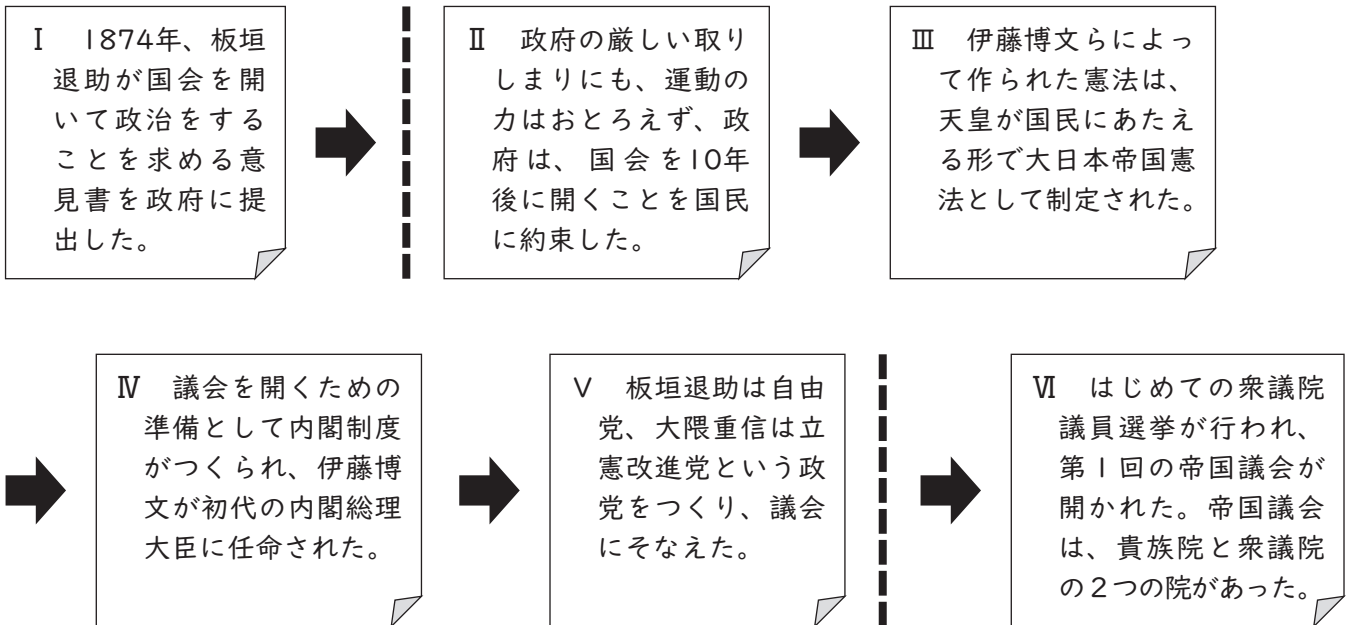
- Ⅰ ペリーの来航をきっかけに、アメリカなどの諸外国と和親条約を結んだ。
- Ⅱ 足利義満が、京都の北山に2・3層に金ぱくをはりつめたごうかな金閣を建てた。
- Ⅲ 国学という学問を形づくった本居宣長が、44巻にのぼる『古事記伝』を書き上げた。
- Ⅳ 山城国の南部では、村に住む武士と農民とが協力して大名を追い出し、自分たちの手で政治をおこなった。

問9 下線部⑤について、右図は「大政奉還」の様子をあらわした絵になります。「大政奉還」の意味を簡単に説明しなさい。



【出典】：第一学習社『最新日本史図表』新版二訂より

問10 下線部⑥について、西南戦争のあと、武力による反乱はなくなり、人々は言論によって自分たちの考えをうたえていくようになりました。その「自由民権運動」の流れをまとめた次のふせんⅠ～Ⅵのうち、Ⅱ～Ⅴの順番に誤りがあります。正しくならびかえたものとして、もっとも適切なものを、下のア～カから1つ選び、記号で答えなさい。



ア. Ⅲ → Ⅱ → Ⅳ → Ⅴ  
エ. Ⅴ → Ⅱ → Ⅲ → Ⅳ

イ. Ⅱ → Ⅴ → Ⅳ → Ⅲ  
オ. Ⅴ → Ⅳ → Ⅲ → Ⅱ

ウ. Ⅱ → Ⅳ → Ⅴ → Ⅲ  
カ. Ⅲ → Ⅴ → Ⅱ → Ⅳ

問11 次のX・Yの図からどちらか1つを選び、それらに関係するできごとを年表中の〈ア〉～〈カ〉から1つ選び、記号で答えなさい。また、どのような関係があるかを簡単に説明しなさい。

X. <sup>ふみえ</sup>踏絵




Y. <sup>いまり</sup>伊万里焼・有田焼



出典：第一学習社『最新日本史図表』新版二訂より

問12 次のⅠ～Ⅳの写真・絵と関連の深い年表中の〈キ〉～〈コ〉の戦争の組合せとして、もっとも適切なものを、下のア～エから1つ選び、記号で答えなさい。

Ⅰ



Ⅱ



Ⅲ



Ⅳ



出典：第一学習社『最新日本史図表』新版二訂より

- |          |       |          |       |
|----------|-------|----------|-------|
| ア. Ⅰ-〈コ〉 | Ⅲ-〈キ〉 | イ. Ⅰ-〈ク〉 | Ⅲ-〈ケ〉 |
| ウ. Ⅱ-〈キ〉 | Ⅳ-〈ク〉 | エ. Ⅱ-〈コ〉 | Ⅳ-〈ケ〉 |

問13 下線部⑦について、この時期の説明として適切でないものを、次のア～エから1つ選び、記号で答えなさい。

- ア. サンフランシスコ講和会議が開かれ、日本は、アメリカ・イギリスなど48カ国と平和条約を結び、独立を回復した。
- イ. 日米安全保障条約が結ばれ、日本の独立後もアメリカ軍が日本の基地にとどまることになった。
- ウ. 連合国軍総司令部（GHQ）の指令によって、今の自衛隊のもとになる警察予備隊がつけられた。
- エ. 世界の国々が協力して温暖化防止に取り組むことを確認した地球温暖化防止会議が京都で開かれた。

問14 年表中Gの時代の政治・社会に関連する説明として、適切でないものを、次のア～エから1つ選び、記号で答えなさい。

- ア. すべての国民が、病気や高<sup>こうれい</sup>齢になったときの不安が少なくなるよう社会保障制度がととのえられた。
- イ. 高度経済成長のいっばうで、水や空気をよごし、各地で公害が社会問題となった。
- ウ. 出生率<sup>しゅっしょうりつ</sup>の低下と平均寿命<sup>じゆみよう</sup>の増大が同時に進行する少子高齢化が大きな問題となった。
- エ. 民主的で男女平等の社会を実現するために女性に参政権があたえられ、女性議員が誕生した。

2 次の文章を読んで、下の問に答えなさい。

日本列島には、山地や山脈がつらなっており、本州の中央部には3000m級の山々からなる①日本アルプスがそびえています。また、②平野は海に面して広がっていて、広い平野には必ず大きな川が流れています。日本の川は、外国の川と比べると、短くて流れがたいへん急です。それは、日本の国土の **A** が山地で、山地が海岸までせまっているため、川の水は山地から海へいっきに流れてしまうからです。

日本の近海は、暖流の黒潮と対馬海流、寒流の③親潮などが流れているため、すぐれた④漁場となっています。とくに暖流と寒流がぶつかる **B** では、海底の栄養分がまき上げられてプランクトンが集まるので、世界有数の漁場となっています。

さらに、日本列島は南北に長くのびていることから、北と南では気温が大きく異なります。また、⑤太平洋側と日本海側では、**C**の影響によって、気温や降水量の分布にちがいがみられることも特色です。

問1 文章中の空らん **A** にあてはまる語句を、次のア～エから1つ選び、記号で答えなさい。

- ア. 2分の1      イ. 3分の1      ウ. 4分の3      エ. 5分の2

問2 文章中の空らん **B** ・ **C** にあてはまる語句を、それぞれ答えなさい。

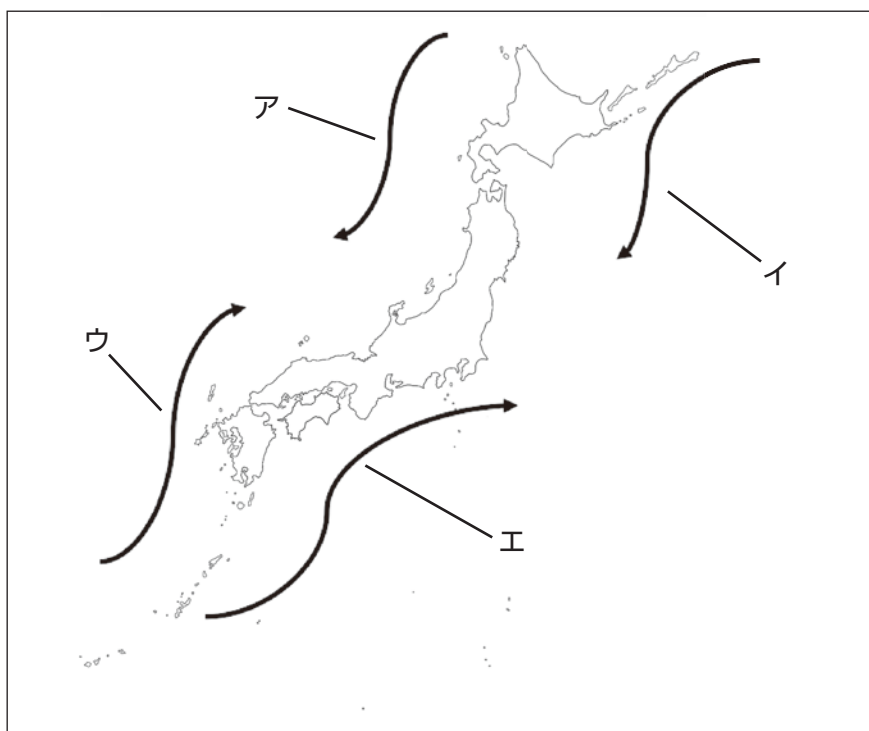
問3 下線部①について、日本アルプスにあてはまらないものを、次のア～エからすべて選び、記号で答えなさい。

- ア. 赤石山脈      イ. 鈴鹿山脈      ウ. 飛騨山脈      エ. 越後山脈

問4 下線部②について、仙台平野を流れる川を、次のア～エから1つ選び、記号で答えなさい。

- ア. 利根川      イ. 木曾川      ウ. 北上川      エ. 最上川

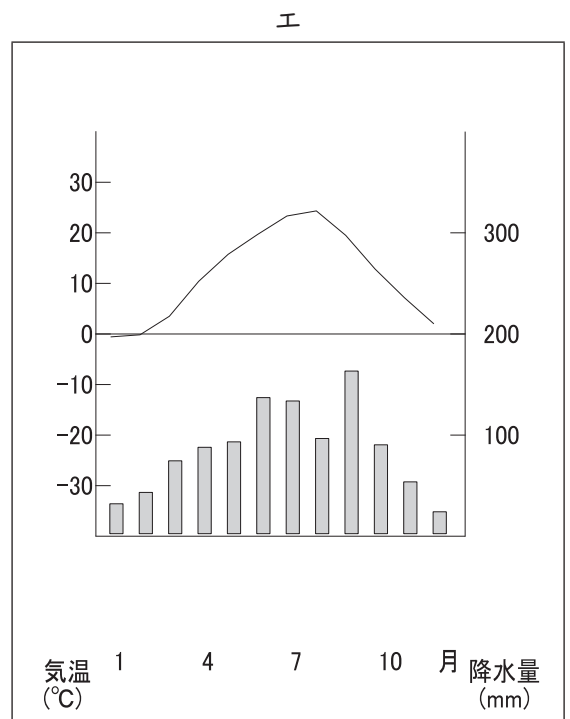
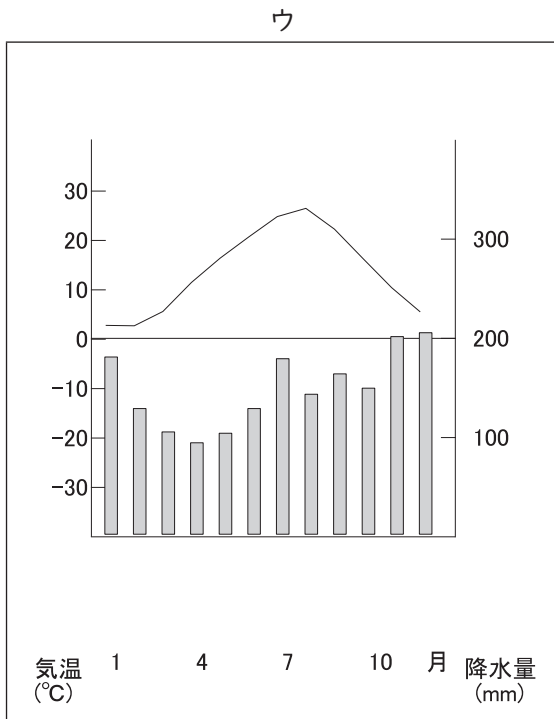
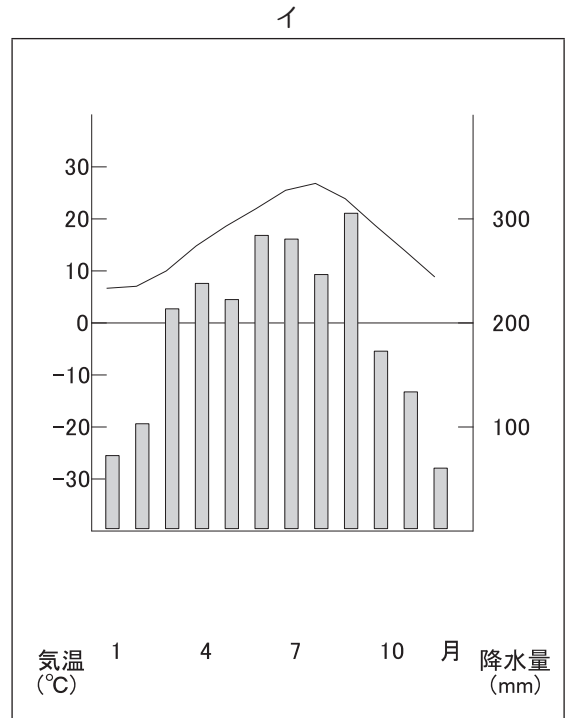
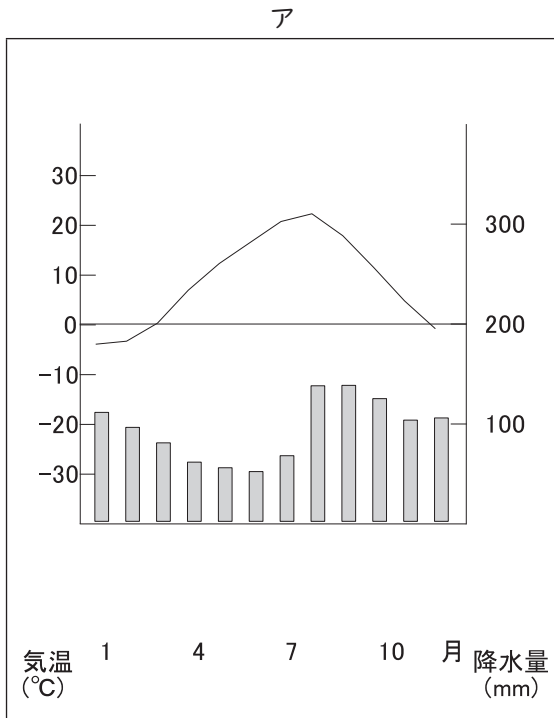
問5 下線部③について、この海流にあたるものを、次の地図中のア～エから1つ選び、記号で答えなさい。





問6 下線部④について、稚魚や稚貝を放流したりして沿岸の漁業資源を増やそうとする漁業を、解答らんに合わせて漢字二文字で答えなさい。

問7 下線部⑤について、次のア～エの雨温図は、札幌(北海道)・新潟(新潟県)・松本(長野県)・静岡(静岡県)のいずれかです。静岡の雨温図として適切なものを、次のア～エの中から1つ選び、記号で答えなさい。また、それを選んだ理由を降水量に注目して説明しなさい。



3 次の文章を読んで、下の問に答えなさい。

あいさんは、食品関係の会社で働いています。現在、世界に向け新製品の企画<sup>きかく</sup>を考える仕事についています。今回、①日本が発祥<sup>はっしょう</sup>である、ある即席<sup>そくせき</sup>（インスタント）食品の新製品を、世界市場<sup>しじょう</sup>に向けて開発することになりました。

世界中に広まっているこの即席（インスタント）食品ですが、国によって異なる事情があるため、3つの国にしばって商品企画を考えてみました。以下、A～Cの国での事情についての説明です。

A ヨーロッパにあるこの国では、鶏<sup>とり</sup>・牛・えびのスープが主流です。味はトマトベースやスパイシーなものが人気です。都市ベルリンでは、ジャガイモとソーセージを使った伝統的な料理が有名です。

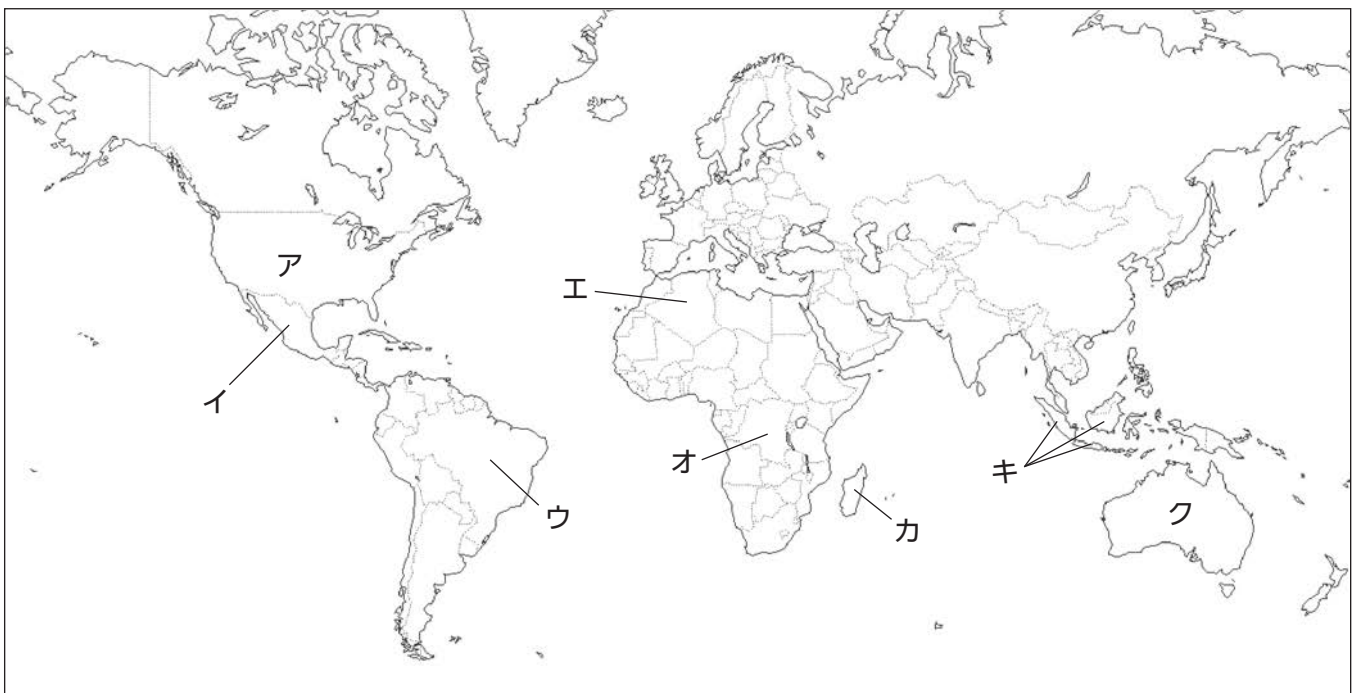
B 南アメリカ大陸にあるこの国では、塩味が濃いものが好まれます。スープなしのからめるタイプが人気です。濃厚<sup>のうこう</sup>な味が受け入れられており、それに合うように触感<sup>しよつかん</sup>は②パスタに似ています。

C 赤道が通っているこの国では、焼きそばに似たものが主流です。具材は野菜や鶏肉、えびが売れ筋ですが、③この国で多くの人々が信仰<sup>しんこう</sup>している宗教<sup>ぶた</sup>では豚肉や豚の油を使うことは禁じられています。

問1 下線部①にあたるものとして、もっとも適切なものを、次のア～エの中から1つ選び、記号で答えなさい。

ア. 味噌汁                      イ. ピザ                      ウ. ラーメン                      エ. チャーハン

問2 説明文A～Cのうち、B・Cの国の位置を下の地図中のア～クの中から、それぞれ1つずつ選び、記号で答えなさい。



問3 下線部②について、次のi)・ii)の設問にそれぞれ答えなさい。

i) この食品の主な原料としてもっとも適切なものを、次のア～エの中から1つ選び、記号で答えなさい。

ア. 米                      イ. ジャガイモ                      ウ. トウモロコシ                      エ. 小麦

ii) 現在の日本におけるi)の食糧自給率<sup>しよくりよウ</sup>としてもっとも適切なものを、次のア～エの中から1つ選び、記号で答えなさい。

ア. 約5%                      イ. 約15%                      ウ. 約30%                      エ. 約50%

問4 下線部③について、C国でもっとも多く信仰されている宗教として適切なものを、次のア～エの中から1つ選び、記号で答えなさい。

ア. キリスト教                      イ. ヒンドゥー教                      ウ. 仏教                      エ. イスラム教

問5 あいさんは会議をかさねた結果、A国と国境を接しているある国の市場をねらうことにしました。次の【商品企画書】を見て、売り出す国としてもっとも適切な国名を、空らん  に入れなさい。

## 【商品企画書】

### ■ 売り出す国

国名： 共和国

その国の特徴：美食の国／世界三大料理<sup>は い し ゆ つ</sup>のうちの1つ  
一流シェフを多く輩出  
日本食が注目されている

### ■ ターゲット層・ コンセプト

・一般消費者の中でも食文化への意識<sup>こ う き し ん</sup>・好奇心の高い層をねらう  
・フォーク・ナイフ<sup>け ん</sup>圏、食事マナーも厳しく、汁物<sup>し る も の</sup>になじみがない分、  
すぐ食べられる便利さや、美味しさを強調する  
・繊細<sup>せんさい</sup>な「日本の味」でせめる

### ■ 商品内容・セールスポイント

#### 〈商品内容〉

使う食材：野菜・きのこ（ヘルシーさ）

味付け：チャッシュー（濃い味付け）

価格設定：10ユーロ／個（高めに設定）※日本円で1400円程度

陳列場所<sup>ち ん れ つ</sup>：スーパーのアジア食品のコーナー

#### 〈セールスポイント〉

- ・代表的な5種を用意（味・日本の地名）
- ・職人が仕込んだ<sup>し こ</sup>上等スープを強調
- ・パッケージに漢字と職人のイラスト

商品名『美味〇〇』



4 次の文章を読んで、下の問に答えなさい。

日本をもっと暮らしやすい国にするために、私たちに何ができるでしょうか。

例えば、選挙を通じて私たちの意見や願いを政治に反映させることが可能です。①2022年7月10日には全国で  選挙が実施されました。日本では  歳以上の全国民に選挙権が認められています。しかし、投票率は52.05%と、過去4番目の低さでした。投票率を上げるためにどのような方法があるのかを考える必要がありそうです。

国政選挙で選ばれた人は、②国会で話し合いを行います。特に③予算を決めることが大切な仕事です。私たちには④税金を納める義務がありますが、その税金がどのように使われているのか、関心をもつ必要がありそうです。また、日本では国会議員の中から内閣の長である  が選ばれ、各省などの長である  を任命することができます。  は私たちにとって身近な存在であった方がいいですが、一方でプライバシーや安全面についてどのように配慮されるべきかを考える必要があるかもしれません。

問1 空らん  にあてはまる語句を漢字三文字で答えなさい。

問2 空らん  にあてはまる数字を答えなさい。

問3 空らん  にあてはまる語句を漢字六文字で答えなさい。

問4 空らん  にあてはまる語句を答えなさい。

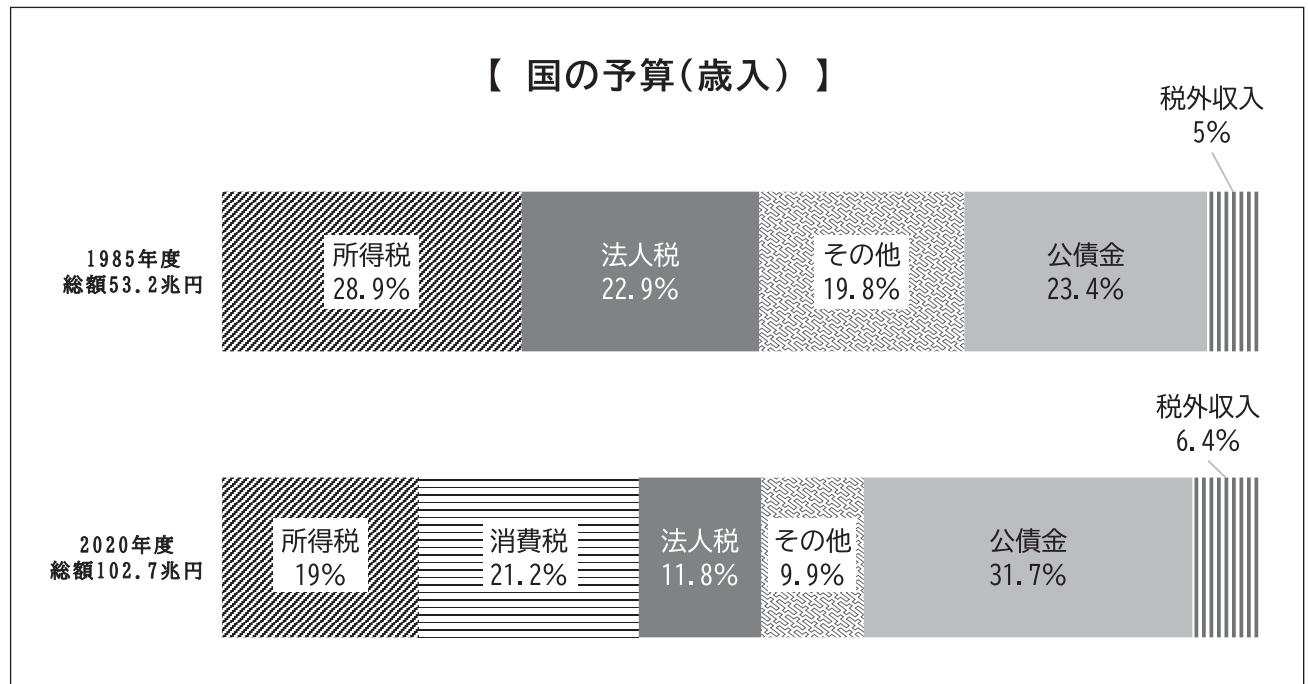
問5 下線部①について、この時点での行政の長として正しい人物を、次のア～エの中から1つ選び、記号で答えなさい。

- ア. 岸田 ふみお 文雄      イ. 菅 すが 義偉      ウ. 安倍 しんぞう 晋三      エ. 野田 よしひこ 佳彦

問6 下線部②について、国会の主な仕事として適切でないものを、次のア～エの中から1つ選び、記号で答えなさい。

- ア. 外国と結んだ条約を承認する。      イ. 内閣総理大臣を指名する。  
ウ. 国の法律を決める。      エ. 最高裁判所の長官を指名する。

問7 下線部③について、次のグラフは、1985年度と2020年度のわが国の予算（歳入）をあらわしたグラフです。この2つのグラフから読みとれる説明として誤っているものを、下のア～エの中から1つ選び、記号で答えなさい。



(注) 公債金とは国の借金のことで

出典：浜島書店『新しい公民』国の予算より作成

- ア. 1985年度は存在しなかった新たな税が、2020年度には存在する。
- イ. 1985年度から2020年度にかけて、借金の割合が増加している。
- ウ. 1985年度から2020年度にかけて、所得税・法人税ともに割合が減少している。
- エ. 1985年度から2020年度にかけて、所得税の金額はおおきく減っている。

問8 下線部④について、残り二つの国民の義務のうち、どちらか1つを答えなさい。

5 次の文章を読んで、下の問に答えなさい。

国内で新型コロナウイルス感染者が確認されてから、約3年が経ちました。わが国においては、2020年1月15日に最初の感染者が確認されています。(国立感染症研究所ホームページより)

①それ以降、日本を訪れる外国人旅行者数、日本を出国する日本人旅行者数が大幅にへりました。しかし忘れてはいけないのは、新型コロナウイルスが世界的に流行する以前にも、経済的余裕がなく海外旅行ができない人々が、世の中にはたくさんいたことです。②極度の貧困状態(1日1.9アメリカドル以下)で暮らしている人は、今なお全世界に多く存在します。特に開発途上国に多く、③日本はそうした国々への国際協力をおこなっています。

国際社会において、日本がどのような役割を果たせるのか、一人ひとりが自分のこととして考えていく必要があります。

問1 下線部①について、次の[資料1]～[資料3]の空らんには、すべて同じ国名が入ります。その国名を答えなさい。

[資料1] 訪日外客数 国・地域別ランキング

	2019年		2022年 ※9月分までの統計	
第1位	9,594,394人	<input type="text"/>	191,150人	ベトナム
第2位	5,584,597人	韓国	118,100人	韓国
第3位	4,890,602人	台湾	113,000人	<input type="text"/>
第4位	2,290,792人	香港	76,500人	アメリカ
第5位	2,187,557人	アメリカ	57,200人	インドネシア

出典：日本政府観光局 (JNTO) / 訪日外客数 (総数) より作成

[資料2] 日本人訪問者数 国・地域別ランキング

	2018年	
第1位	3,493,313人	アメリカ (注)
第2位	2,948,527人	韓国
第3位	2,689,662人	<input type="text"/>
第4位	1,969,151人	台湾
第5位	1,655,996人	タイ

(注) 北マリアナ諸島 (サイパン等)・グアム・米領サモア・プエルトリコ・米領バージン諸島などもふくむ。  
うち、ハワイ：1,489,778人 グアム：566,588人

出典：外務省ホームページ / 日本人が多く訪問している国・地域 より作成

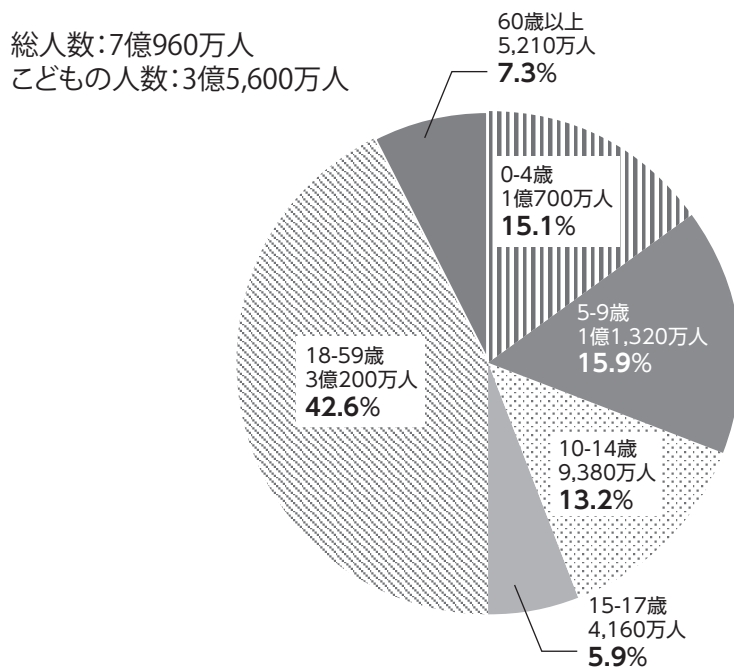
[資料3] 日本のおもな輸出入相手国 国・地域別ランキング (統計年 / 2020年)

	輸出 (2020年) 金額による輸出相手国・地域の割合		輸入 (2020年) 金額による輸入相手国・地域の割合	
第1位	22.0 %	<input type="text"/>	25.8 %	<input type="text"/>
第2位	18.5 %	アメリカ	11.3 %	アメリカ
第3位	7.0 %	韓国	5.6 %	オーストラリア
第4位	5.0 %	香港	4.2 %	韓国
第5位	4.0 %	タイ	3.7 %	タイ

出典：データブック・オブ・ザ・ワールド2022より作成

問2 下線部②について、次の円グラフは、世界で「きわめて貧しい暮らしを強いられる人びと」の数をあらわしています。この円グラフから読みとれる説明Ⅰ～Ⅳについて、正しいものの組合せを、下のア～エの中から1つ選び、記号で答えなさい。

【きわめて貧しい暮らしを強いられる人びとの数】



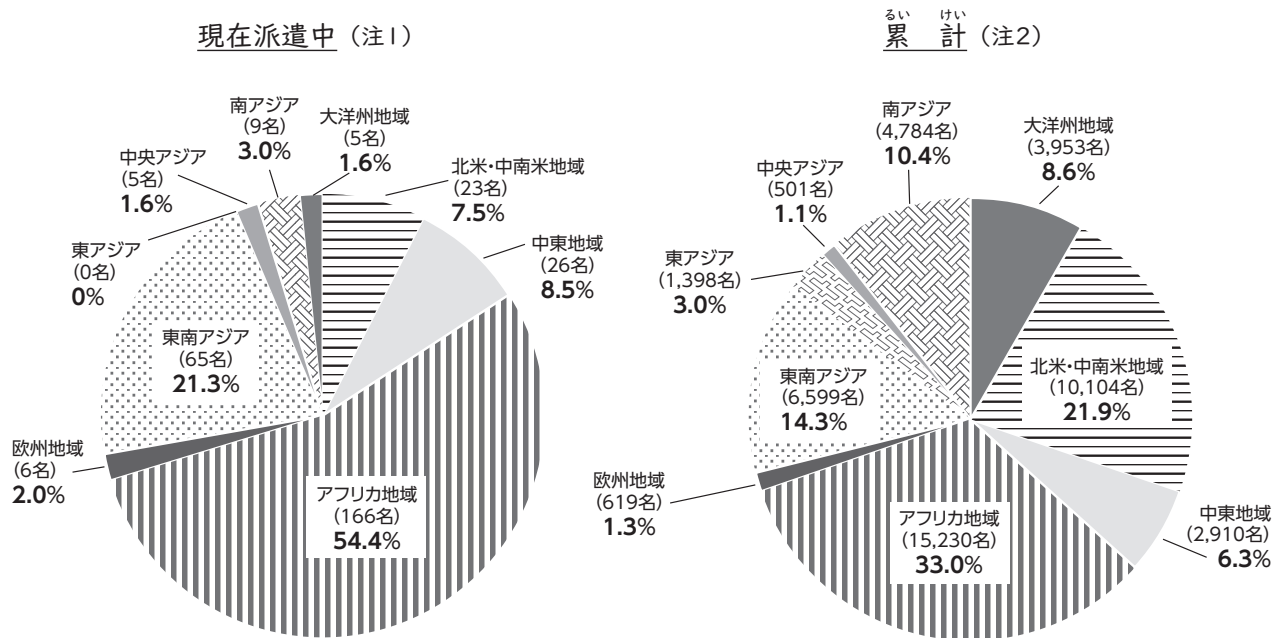
【出典】：「日本ユニセフ協会ホームページ/SDGs Club/SDGs17の目標/1.貧困をなくそう/世界にあるこんな問題」より

- Ⅰ. 極度の貧困状態で暮らしている総人数は、合計で10億人をこえている。
- Ⅱ. 極度の貧困状態で暮らしている子ども（0-17歳）の人数は、総人数の半数をこえている。
- Ⅲ. 極度の貧困状態で暮らしている子ども（10-17歳）は、日本の総人口より少ない。
- Ⅳ. 極度の貧困状態で暮らしている高齢者（60歳以上）は、全体の10%未満である。

ア. Ⅰ・Ⅲ      イ. Ⅰ・Ⅳ      ウ. Ⅱ・Ⅲ      エ. Ⅱ・Ⅳ

問3 下線部③について、次の2つの円グラフは、青年海外協力隊の国別派遣者数とその割合を地域別に集計したグラフです。この円グラフから読みとれる説明としてもっとも適切なものを、下のア～エの中から1つ選び、記号で答えなさい。

【青年海外協力隊 国別派遣実績－地域別集計表】



(注1) 2022年3月31日時点における「派遣中の人数とその割合」をあらわしています。

(注2) 1965年から2022年まで派遣された「合計人数とその割合」をあらわしています。

【出典】：「JICA海外協力隊ホームページ 青年海外協力隊／海外協力隊派遣実績」より

ア. 「現在派遣中」の人のうち、アジア地域へ派遣されている人数は、全派遣地域の過半数をしめている。

イ. 「現在派遣中」の人のうち、北米・中南米地域へ派遣されている人の割合は、近年増加している。

ウ. 今まで日本から各地域に派遣された「累計」人数は、500人をこえている。

エ. 今まで日本から各地域に派遣された「累計」割合は、アフリカ・中東地域で過半数をしめている。